



02-88-81-58  
(105.14)



# МОСКОВСКИЙ ГОСУДАРСТВЕННЫЙ УНИВЕРСИТЕТ имени М.В.ЛОМОНОСОВА

Вариант 1

Место проведения Москва  
город

## ПИСЬМЕННАЯ РАБОТА

Олимпиада школьников "Ломоносов"  
наименование олимпиады

по истории  
профиль олимпиады


Медведева Антона Геннадьевича  
фамилия, имя, отчество участника (в родительном падеже)

Дата

«22» марта 2026 года

Подпись участника

МФ



Выполнять задания на титульном листе запрещается!

## Олимпиада школьников «Ломоносов»

Заключительный этап 2025/26 учебного года по

истории

11 класс

1-й вариант

Часть А

75

**Задание №1.** Перед Вами девять отрывков, повествующих о правлении трех древнерусских князей. Назовите князей, о которых идет речь, и определите, с правлением кого из них связан каждый из отрывков.

- А) «Пришел Брячислав, сын Изяслава, внук Владимира, на Новгород, и взял Новгород, и, захватив новгородцев и имущество их, пошел к Полоцку снова. И когда пришел он к реке Судомири, и [...] из Киева на седьмой день нагнал его тут. И победил [...] Брячислава»
- Б) «[...] же стал размышлять, говоря: «Если сяду на столе отца своего, то ожидает меня война со Святополком, так как стол этот был его отца». И, размыслив, послал по Святополка в Туров, а сам пошел в Чернигов, а Ростислав — в Переяславль. <...> Пришел Святополк в Киев»
- В) «Пошел [...] на хазар. Услышав же, хазары вышли навстречу во главе со своим князем каганом и сошлись биться, и в войне с ними одолел [...] хазар и город их Белую Вежу взял. И победил ясов и касогов, и пришел в Киев»
- Г) «[...] сел в Киеве в воскресенье. Встретили же его митрополит Никифор с епископами и со всеми киевлянами с честью великой. Сел он на столе отца своего и дедов своих, и все люди рады были, и мятеж улегся»
- Д) «[...] посадил Ярополка в Киеве, а Олега у древлян. В то время пришли новгородцы, прося себе князя: «Если не пойдете к нам, то сами добудем себе князя». <...> И взяли к себе новгородцы Владимира, и пошел Владимир с Добрынею, своим дядей, в Новгород, а [...] в Переяславец»
- Е) «Боголюбивый князь [...] любил село Берестовое и церковь, которая была там, святых апостолов и помогал попам многим, среди которых был пресвитер, именем Иларион, муж благостный. Поставил [...] Илариона митрополитом, русского родом, в святой Софии, собрав епископов»
- Ж) «Послал [...] сына своего Владимира на греков и дал ему много воинов, а воеводство поручил Вышате, отцу Яня. И отправился Владимир в ладьях, и приплыл к Дунаю, и направился к Царьграду. И была буря велика, и разбила корабли русских, и княжеский корабль разбил ветер»
- З) «В тот же год пришел Олег с половцами из Тмуторокани и подошел к Чернигову. [...] же затворился в городе. Олег же, подступив к городу, пожег вокруг города и монастыри пожег. [...] же сотворил мир с Олегом и пошел из города на стол отцовский в Переяславль, а Олег вошел в город отца своего»
- И) «Я, [...], как клялся, так и подтверждаю настоящим договором свою клятву:

хочу вместе с подвластными мне русскими боярами и прочими иметь мир и прочную дружбу с Иоанном, великим цесарем греческим. <...> И никогда не буду посягать на вашу страну... и на Болгарскую землю»

12

Князь	Святослав Игоревич Ярослав Мудрый	Владимир Мономах	
Отрывки (буквы)	ВДИ	АЕЖ	БГЗ

**Задание №2. Внимательно рассмотрите изображения Полководцев Великой Победы, прочитайте приведенные ниже отрывки и заполните таблицу.**





- 1) «20 февраля я прибыл в Восточную Пруссию в штаб 3-го Белорусского фронта и 21 февраля вступил в командование. Моя непосредственная работа в войсках этого фронта на протяжении почти всей Белорусской операции... позволила мне быстро освоиться на новом поприще, так как я отлично знал не только руководящий состав фронтового управления, но также армейское и корпусное командование большинства армий»
- 2) «6 сентября в Ельню вошли наши войска. Опасный плацдарм был ликвидирован. В связи с этим я коротко доложил И.В. Сталину итоги Ельнинской операции. <...> Всего за период боев в районе Ельни было разгромлено до пяти дивизий, противник потерял убитыми 45-47 тысяч человек... По показаниям пленных, в некоторых частях минометов и артиллерии не осталось совершенно»

- 3) «30 мая я был вызван в Москву. Вместе со мной прибыли ближайшие сотрудники... Перед войсками Карельского фронта Ставка поставила теперь задачу очистить от финляндских войск Южную Карелию. <...> Наступление войск южного крыла Карельского фронта началось в третью годовщину войны»
- 4) «Хотя предпринятый нами контрудар частями 7-го стрелкового корпуса не оправдал ожиданий, он помешал противнику продвинуться на ольховатском направлении. Это предопределило провал наступления орловской группировки немцев. <...> Не добившись успеха 6 июля в центре и на левом фланге нашей 13-й армии, противник с утра 7 июля перенес основные усилия на Поньри»
- 5) «Докладываю: войска фронта на яском направлении 21 августа [...] года продолжали наступление. Развивая успех прорыва, продвинулись на 10—14 км, расширили фронт прорыва до 65 км и в глубину до 26 км. К 15.00 21 августа обходным маневром и штурмом овладели крупным политическим, экономическим центром Румынии и крупным жел. дор. узлом — городом Яссы»

Изображение (буква)	Полководец	Отрывок (цифра)	Год событий, упомянутых в отрывке
А	Мерецков	3	1944
Б	Жуков	2	1941
В	Васильевский	1	1945
Г	Рокоссовский	4	1943
Д	Малыновский	5	1944

Задание №3. Внимательно рассмотрите изображения выдающихся русских композиторов XIX – начала XX вв., ознакомьтесь с приведенным списком фрагментов из написанных ими опер и заполните таблицу.





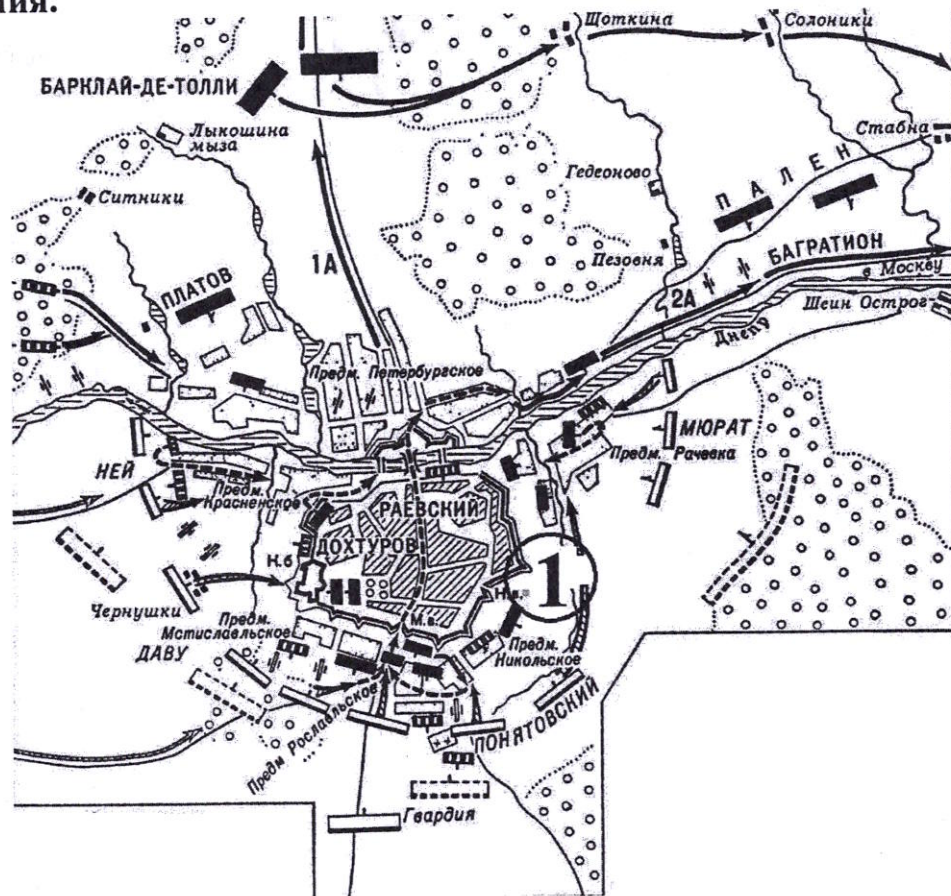
**Фрагменты опер:**

- 1) Половецкая пляска с хором.
- 2) Монолог Шакловитого «Спит стрелецкое гнездо. Спи, русский люд».
- 3) Хор псковичей «Грозный царь идет во великий Псков».
- 4) Ария Германа «Что наша жизнь? Игра!»
- 5) Хор народа «Славься, славься, наш русский царь!»
- 6) Хор девушек «Ходим мы к Арагве светлой».

Изображение (буква)	Композитор	Отрывок из оперы (цифра)	Название оперы, из которой взят фрагмент
А	Мусоргский	2	«Хованщина»
Б	Чайковский	4	«Пиковая дама»
В	Бородин	1	«Князь Игорь»
Г	Тайник	5	«Маскирад» (путь за сценой)
Д	Раимский-Корсаков	3	«Псковичи»
Е	Моцарт	6	«Демон»

12

**Задание №4. Внимательно рассмотрите карту и выполните приведенные ниже задания.**



1. В каком году произошло изображенное на схеме сражение?

Ответ: 1812

2. Назовите город, обозначенный на схеме цифрой 1.

Ответ: Смоленск

3. Укажите российского монарха, при котором произошло сражение на схеме, и годы его(ее) правления.

10  
 Ответ: Александр I Александрович (1801-1825)

4. Укажите название войны, в рамках которой происходило сражение на схеме, и ее временные рамки (с точностью до месяцев начала и завершения).

Ответ: Отечественная война 1812г. (VI-XII 1812г)

5. Верны ли представленные ниже утверждения («ДА» – «НЕТ»)? Ответы внесите в таблицу.

А) На схеме указаны фамилии двух российских полководцев, занимавших в разные годы пост военного министра Российской империи.

Б) Участником сражения на схеме был последний король Речи Посполитой.

В) На схеме обозначен населенный пункт, названный в честь организатора обороны города, обозначенного цифрой 1, в XVII в.

Г) В результате событий на схеме город, обозначенный цифрой 1, был оставлен русской армией.

Д) В том же году, в котором происходили события на схеме, было учреждено сословие почетных граждан.

Е) На момент происходивших на схеме событий город, обозначенный цифрой 1, был административным центром губернии.

А	Б	В	Г	Д	Е
НЕТ	НЕТ	да	да	НЕТ	да

**Задание №5. Расположите промышленные и транспортные объекты XVIII – XX в. по хронологии их ввода в строй.**

1. <sup>5</sup> Челябинский тракторный завод. 1929 г.

2. <sup>4</sup> Великий Сибирский путь. 1891

3. <sup>1</sup> Ирбинский железоделательный завод. 181.

4. <sup>1</sup> Императорский Тульский оружейный завод. 1811 г.

5. <sup>3</sup> Кондитерская фабрика «Эйнем». сеп 1916.

6. <sup>2</sup> Обнинская атомная электростанция. 1957

7. <sup>7</sup> Камский автомобильный завод. Брежнев

8. <sup>6</sup> Уральский вагоностроительный завод имени Ф. Э. Дзержинского. 1930 г.

Ответ: 4 3 5 2 1 8 6 7

50

Модинаев Т.Ф. Тукеев  
Торангому Т.Т. &  
Торангому Т.Т. &  
Торангому Т.Т. &


02-88-81-58  
(105.14)

Черновик. ①


№7.

Имя Яремцова - широко известное репортёр в СССР  
в 1985-1991г. Ускорение - за время, когда на африканском  
континенте.

Ответ на блок Б (№6) отсутствует,  
блок В (№7) - одна абзаца текста



Тукеев  
/Торангому Т.Т. /  
Мухоморов Т.А.  
Тукеев  
Торангому Т.Т. &



**Задание №6. Внимательно прочитайте отрывок из романа «Хождение по мукам» А. Толстого и выполните задания.**

«В пятиярусном зале Большого театра, в тумане, надышанном людьми, едва светились сотни лампочек красноватым накалом. Было холодно, как в погребе. На огромной сцене, с полотняными арками в кулисах, сбоку, близ тусклой рампы, сидел за столом президиум. Все они, повернув головы, глядели в глубь сцены, где с колосников свешивалась карта Европейской России, покрытая разноцветными кружками и окружностями, -- они почти сплошь заполняли все пространство. Перед картой стоял маленький человек, в меховом пальто, без шапки; откинутые с большого лба волосы его бросали тень на карту. <...>

Он говорил высоким голосом в напряженной тишине:

— У нас в одной Европейской России — десятки триллионов пудов воздушно-сухого торфа. Запасами его мы обеспечены на столетия. Торф есть топливо на местах. С одной десятины торфяного болота получается в двадцать пять раз больше энергии, чем с десятины леса. Торф — в первую голову, за ним — белый уголь и черный уголь решают стоящую перед нами проблему революционного строительства. Ибо революция, которая победила только на поле брани и не перешла к реальному осуществлению своих идей, утихает, как налетевшая буря. Сидящий здесь, среди нас, Владимир Ильич Ленин, вдохновитель моего сегодняшнего доклада, указал генеральную линию созидательной революции: коммунизм — это советская власть плюс электрификация...»

1. Укажите название программы, представление которой описывается в отрывке. Приведите примеры двух любых сооружений, построенных в ходе реализации описываемой программы.
2. Охарактеризуйте последствия и значение, которые имела реализация указанной программы для социально-экономического развития Советского государства (8 – 10 предложений).

1. План ГОЭЛРО (обл. «Гос. комиссия по электрификации России») — объект  
 3. плане говорится в биографии Г.Криштановского в предисловии  
 отрывке. Примеры сооружений: строчи ТЭС ГРЭС: Каширская,  
 Шатурская, Горьковская, Волховская, ДнепротЭС, Арсеньевская, <sup>накала</sup>
2. Влия создавая единая сеть энергосистем страны, что обеспечило  
 электроэнергией ключевые промышленные предприятия, получили  
 стратегическое значение. Вспели 40 станций, что увеличило  
 мощность электроэнергетики. Велась борьба с троцкистской системой  
 централизованной линии. Началась электрификация С/Х. Реализация  
 4. плана ГОЭЛРО заложила фундамент для индустриализации и  
 технологического прогресса. Начался развитие электроэнергетической  
 промышленности, которая является основой СЭС в мире.

Задание №7. Напишите эссе по предложенной теме:

**«Разработка программы «ускорения социально-экономического развития» и ее реализация в СССР (1983–1987 гг.)»**

Жюри олимпиады будет оценивать Вашу работу исходя из следующих критериев:

- 1) Соответствие работы предложенной теме и полнота ее раскрытия (фактологическая);
- 2) Соответствие работы структуре эссе (введение – основная часть – заключение);
- 3) Соблюдение внутренней логики текста и аргументированность основных положений эссе, самостоятельный характер работы, отсутствие некорректных заимствований (плагиат);
- 4) Фактические ошибки (их наличие/отсутствие);
- 5) Знание основных терминов и понятий, связанных с темой эссе, их грамотное использование в работе;
- 6) Использование в эссе точек зрения исследователей и современников по предложенной теме.

Период Перестройки является одним из самых сложных для изучения, поскольку именно в ходе этого процесса рухнул СССР, послужив тем самым основой для распада и по сей день.

Перестройка – это период широкомасштабных реформ в СССР, которые свели к нулю с помощью перестройки ЦК КПСЭ ЦС РСФСР. Цель и задачи, способ достижения целей изменились и корректировались. Многие спорят, что следовало делать и когда.

На каком этапе реформ был направлен и развитие марксистской доктрины. Не отрицать сомнения ни одна из этих социалистических государств на средства реформы и реформирование роли партии.

На апрельском пленуме ЦК КПСЭ в 1985 году началось осуществление программы социально-экономического развития страны. Целью перестройки – повышение качества работы и новые методы работы – интенсификация. Основные задачи перестройки – научно-технический прогресс, развитие материальной культуры, развитие производства товаров народного потребления и среднюю зарплату, интенсификация жилищного строительства, развитие культуры, стимулирование инициативы граждан, повышение эффективности использования трудовых ресурсов. Основные мероприятия 1988–1989 гг. – ускорение, интенсификация производства, борьба с антиреформными тенденциями. В результате закон об инициативе предприятий (1986), но и отменяется, бы проведенной перестройки перестройки? Это подтверждает цель